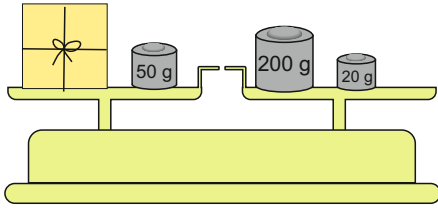


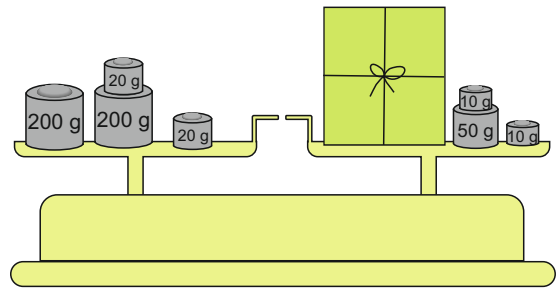
## Wendekarten: Gewicht bestimmen (2)

Wie viele Gramm wiegt das Päckchen?



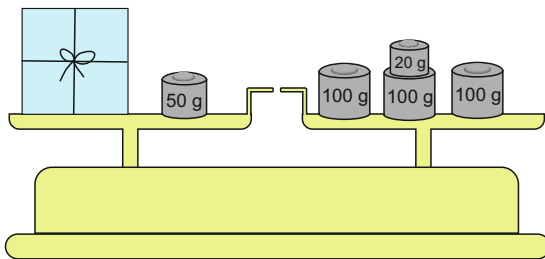
www.mathemonsterchen.de

Wie viele Gramm wiegt das Päckchen?



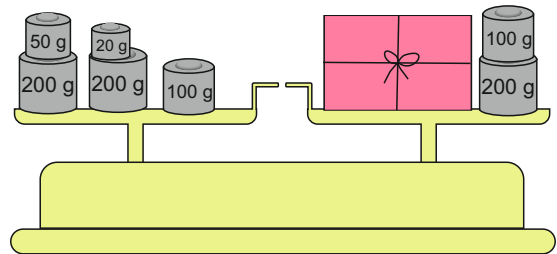
www.mathemonsterchen.de

Wie viele Gramm wiegt das Päckchen?



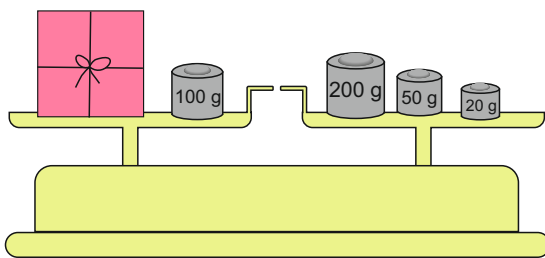
www.mathemonsterchen.de

Wie viele Gramm wiegt das Päckchen?



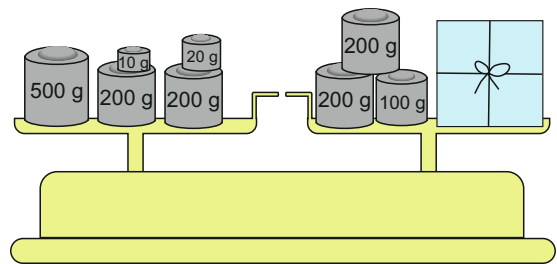
www.mathemonsterchen.de

Wie viele Gramm wiegt das Päckchen?



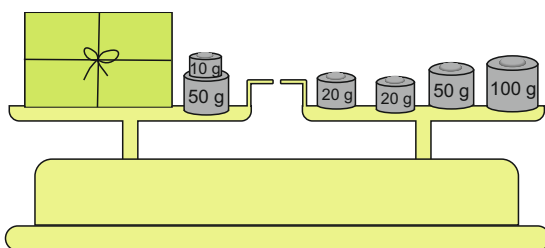
www.mathemonsterchen.de

Wie viele Gramm wiegt das Päckchen?



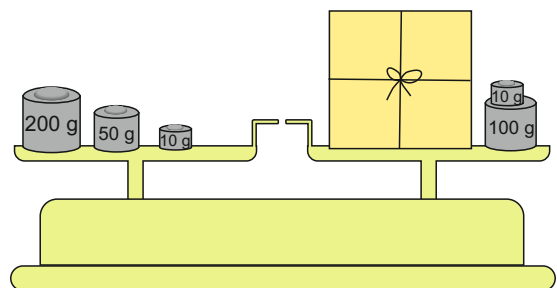
www.mathemonsterchen.de

Wie viele Gramm wiegt das Päckchen?



www.mathemonsterchen.de

Wie viele Gramm wiegt das Päckchen?



www.mathemonsterchen.de

370 g

70 g

270 g

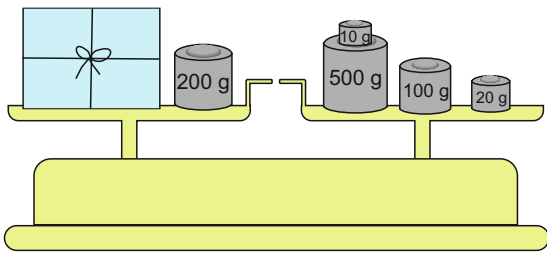
430 g

170 g

130 g

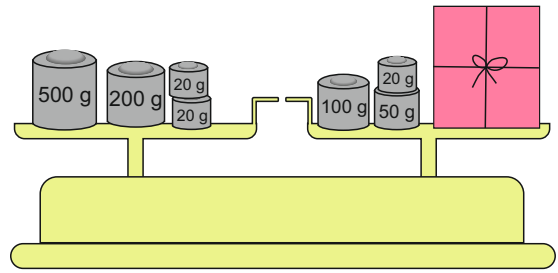
70 g

Wie viele Gramm wiegt das Päckchen?

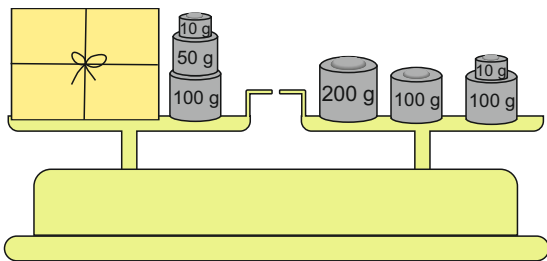


www.mathemonsterchen.de

Wie viele Gramm wiegt das Päckchen?

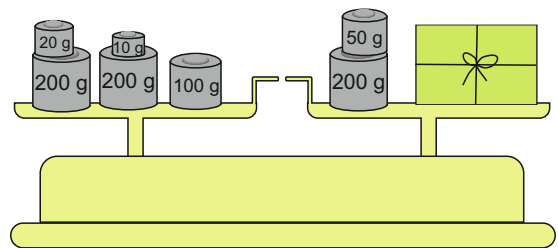


Wie viele Gramm wiegt das Päckchen?

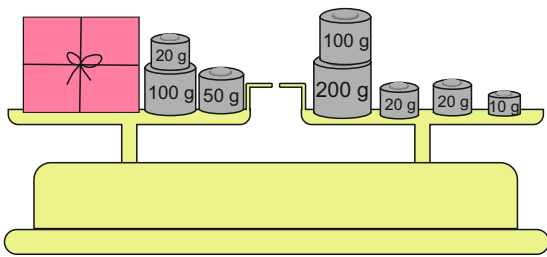


www.mathemonsterchen.de

Wie viele Gramm wiegt das Päckchen?

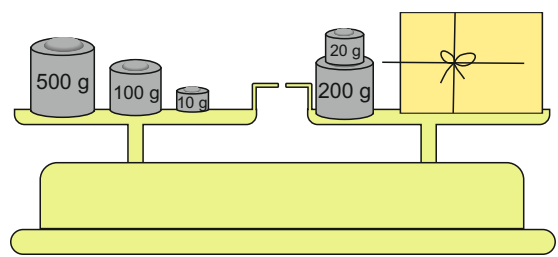


Wie viele Gramm wiegt das Päckchen?

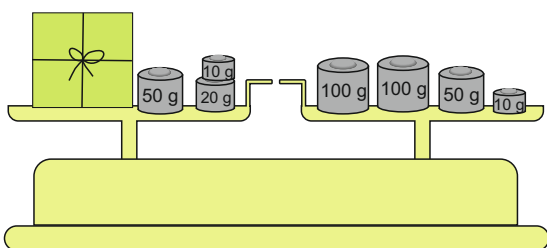


www.mathemonsterchen.de

Wie viele Gramm wiegt das Päckchen?

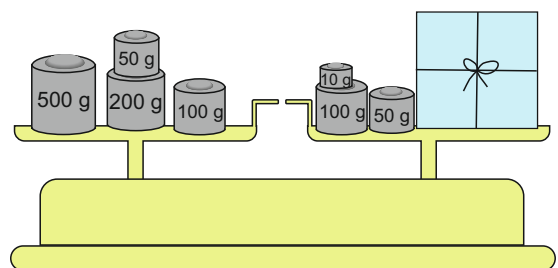


Wie viele Gramm wiegt das Päckchen?



www.mathemonsterchen.de

Wie viele Gramm wiegt das Päckchen?



www.mathemonsterchen.de

570 g

430 g

280 g

250 g

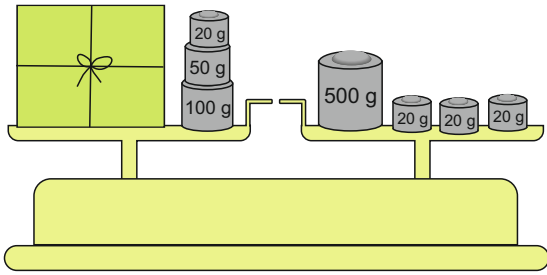
390 g

180 g

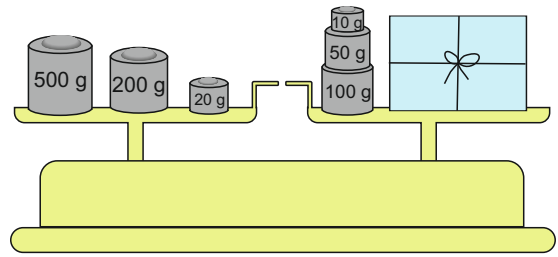
690 g

180 g

Wie viele Gramm wiegt das Päckchen?

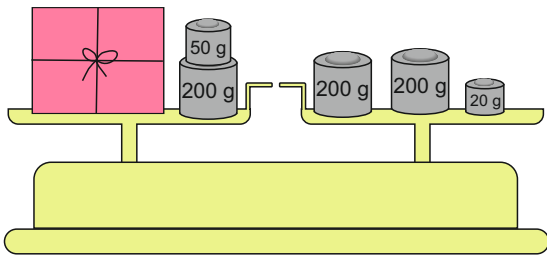


Wie viele Gramm wiegt das Päckchen?

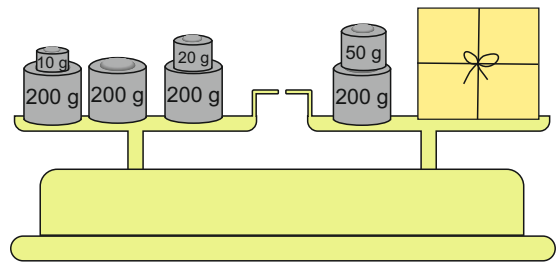


www.mathemonsterchen.de

Wie viele Gramm wiegt das Päckchen?

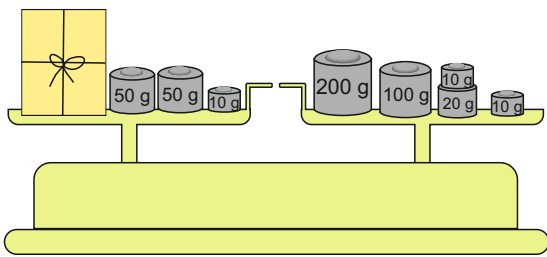


Wie viele Gramm wiegt das Päckchen?

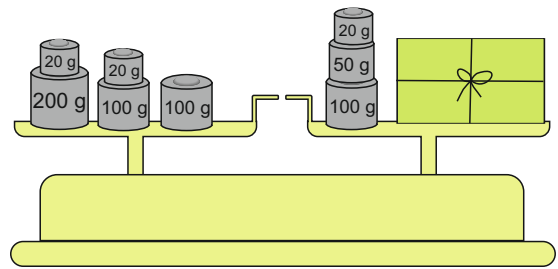


www.mathemonsterchen.de

Wie viele Gramm wiegt das Päckchen?

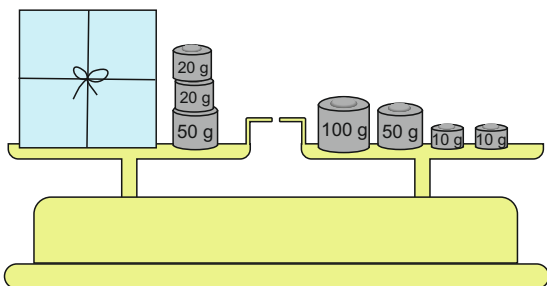


Wie viele Gramm wiegt das Päckchen?

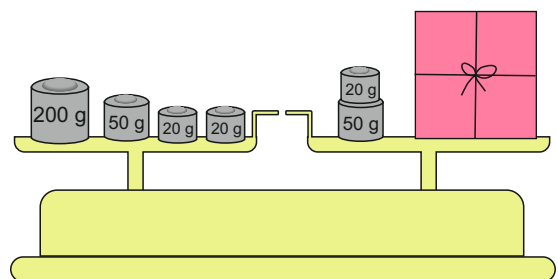


www.mathemonsterchen.de

Wie viele Gramm wiegt das Päckchen?



Wie viele Gramm wiegt das Päckchen?



www.mathemonsterchen.de

www.mathemonsterchen.de

560 g

390 g

380 g

170 g

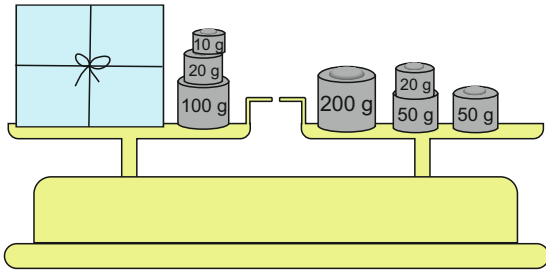
270 g

230 g

220 g

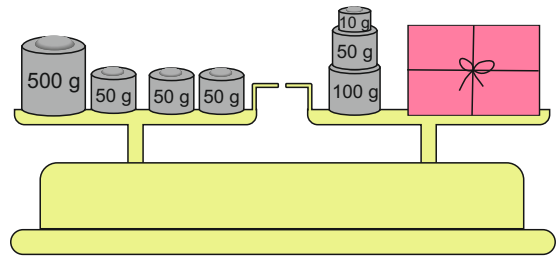
80 g

Wie viele Gramm wiegt das Päckchen?

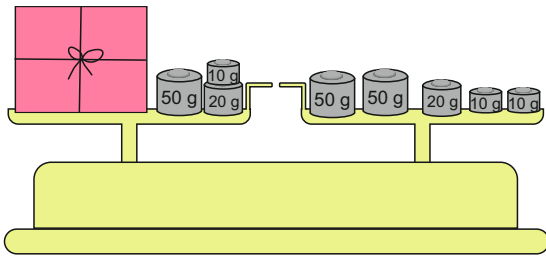


www.mathemonsterchen.de

Wie viele Gramm wiegt das Päckchen?

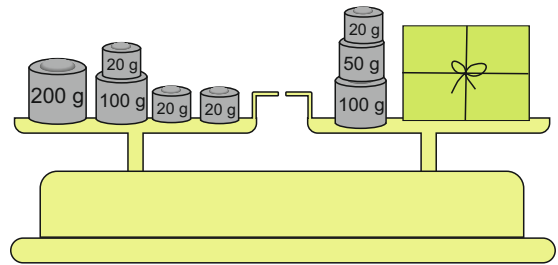


Wie viele Gramm wiegt das Päckchen?

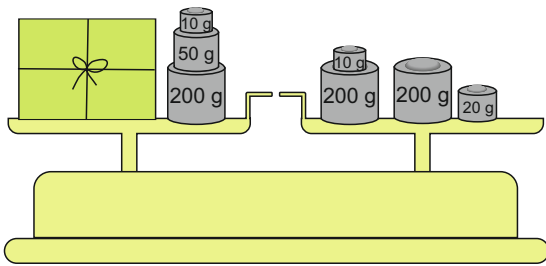


www.mathemonsterchen.de

Wie viele Gramm wiegt das Päckchen?

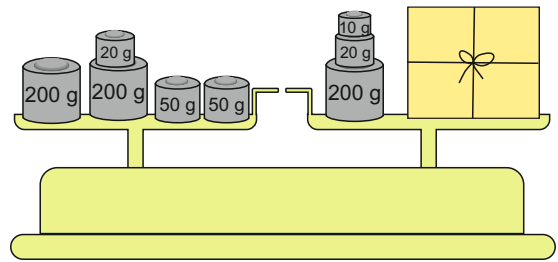


Wie viele Gramm wiegt das Päckchen?

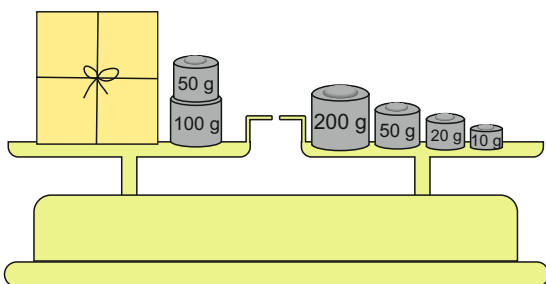


www.mathemonsterchen.de

Wie viele Gramm wiegt das Päckchen?

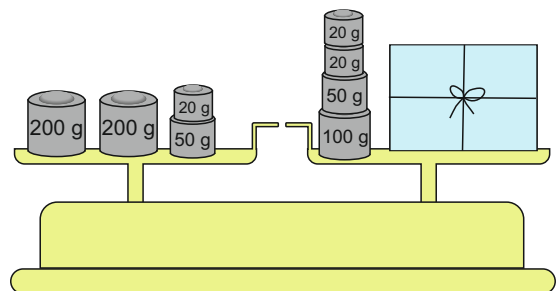


Wie viele Gramm wiegt das Päckchen?



www.mathemonsterchen.de

Wie viele Gramm wiegt das Päckchen?



www.mathemonsterchen.de

490 g

190 g

190 g

60 g

290 g

170 g

280 g

130 g