
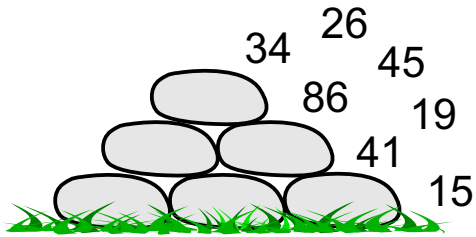


1

Zahlenpyramiden

Kannst du dem Mathemonsterchen helfen? 2 Zahlen bleiben übrig.





www.mathemonsterchen.de
Bild: © sarah5 by fotolia.de

2

Zahlenpyramiden

Kannst du dem Mathemonsterchen helfen? 2 Zahlen bleiben übrig.


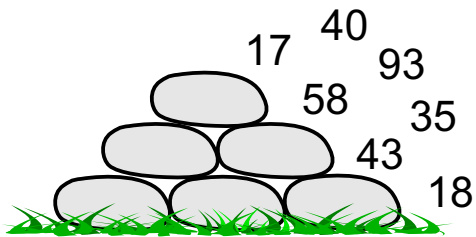


www.mathemonsterchen.de
Bild: © sarah5 by fotolia.de

3

Zahlenpyramiden

Kannst du dem Mathemonsterchen helfen? 2 Zahlen bleiben übrig.





www.mathemonsterchen.de
Bild: © sarah5 by fotolia.de

4

Zahlenpyramiden

Kannst du dem Mathemonsterchen helfen? 2 Zahlen bleiben übrig.





www.mathemonsterchen.de
Bild: © sarah5 by fotolia.de

5

Zahlenpyramiden

Kannst du dem Mathemonsterchen helfen? 2 Zahlen bleiben übrig.


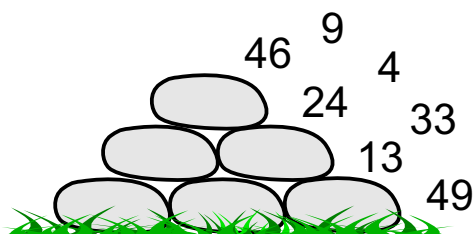


www.mathemonsterchen.de
Bild: © sarah5 by fotolia.de

6

Zahlenpyramiden

Kannst du dem Mathemonsterchen helfen? 2 Zahlen bleiben übrig.


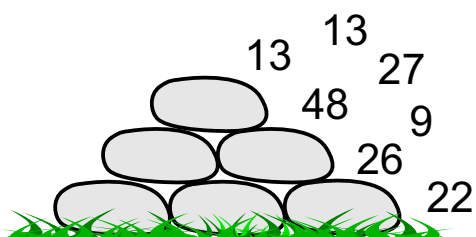


www.mathemonsterchen.de
Bild: © sarah5 by fotolia.de

7

Zahlenpyramiden

Kannst du dem Mathemonsterchen helfen? 2 Zahlen bleiben übrig.


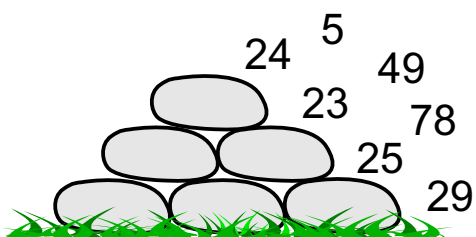


www.mathemonsterchen.de
Bild: © sarah5 by fotolia.de

8

Zahlenpyramiden

Kannst du dem Mathemonsterchen helfen? 2 Zahlen bleiben übrig.


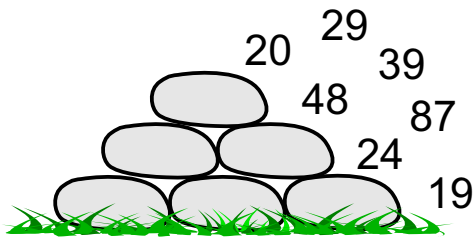


www.mathemonsterchen.de
Bild: © sarah5 by fotolia.de

9

Zahlenpyramiden

Kannst du dem Mathemonsterchen helfen? 2 Zahlen bleiben übrig.


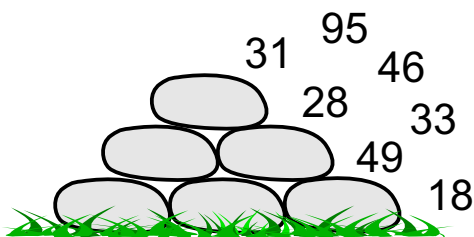


www.mathemonsterchen.de
Bild: © sarah5 by fotolia.de

10

Zahlenpyramiden

Kannst du dem Mathemonsterchen helfen? 2 Zahlen bleiben übrig.


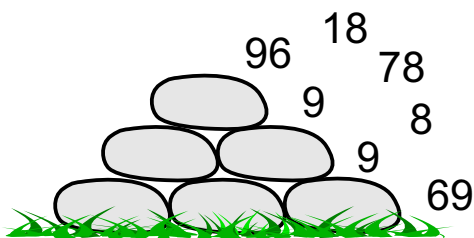


www.mathemonsterchen.de
Bild: © sarah5 by fotolia.de

11

Zahlenpyramiden

Kannst du dem Mathemonsterchen helfen? 2 Zahlen bleiben übrig.


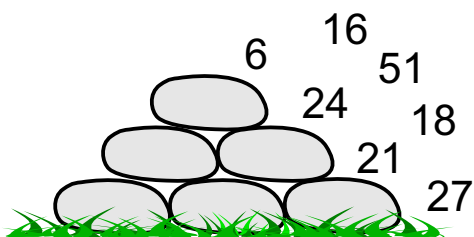


www.mathemonsterchen.de
Bild: © sarah5 by fotolia.de

12

Zahlenpyramiden

Kannst du dem Mathemonsterchen helfen? 2 Zahlen bleiben übrig.


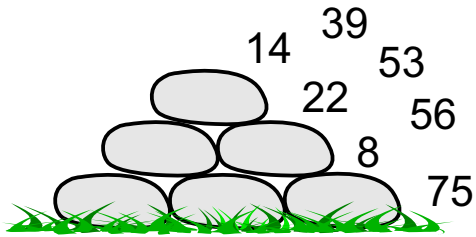


www.mathemonsterchen.de
Bild: © sarah5 by fotolia.de

13

Zahlenpyramiden

Kannst du dem Mathemonsterchen helfen? 2 Zahlen bleiben übrig.


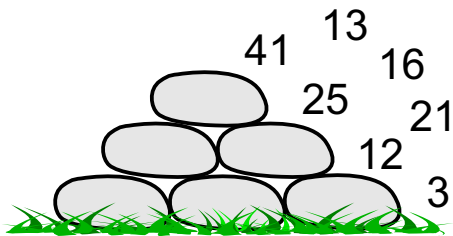


www.mathemonsterchen.de
Bild: © sarah5 by fotolia.de

14

Zahlenpyramiden

Kannst du dem Mathemonsterchen helfen? 2 Zahlen bleiben übrig.


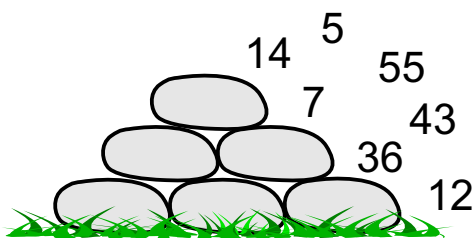


www.mathemonsterchen.de
Bild: © sarah5 by fotolia.de

15

Zahlenpyramiden

Kannst du dem Mathemonsterchen helfen? 2 Zahlen bleiben übrig.


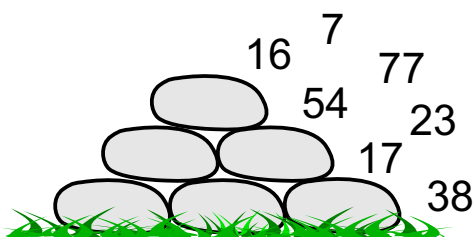


www.mathemonsterchen.de
Bild: © sarah5 by fotolia.de

16

Zahlenpyramiden

Kannst du dem Mathemonsterchen helfen? 2 Zahlen bleiben übrig.



www.mathemonsterchen.de
Bild: © sarah5 by fotolia.de

Lösungen:

① **Zahlenpyramiden**
Kannst du dem Mathemonsterchen helfen? 2 Zahlen bleiben übrig.

34

52

www.mathemonsterchen.de
Bild: © sarah5 by fotolia.de

⑤ **Zahlenpyramiden**
Kannst du dem Mathemonsterchen helfen? 2 Zahlen bleiben übrig.

12

14

www.mathemonsterchen.de
Bild: © sarah5 by fotolia.de

② **Zahlenpyramiden**
Kannst du dem Mathemonsterchen helfen? 2 Zahlen bleiben übrig.

14

12

www.mathemonsterchen.de
Bild: © sarah5 by fotolia.de

⑥ **Zahlenpyramiden**
Kannst du dem Mathemonsterchen helfen? 2 Zahlen bleiben übrig.

49

18

www.mathemonsterchen.de
Bild: © sarah5 by fotolia.de

③ **Zahlenpyramiden**
Kannst du dem Mathemonsterchen helfen? 2 Zahlen bleiben übrig.

43

18

www.mathemonsterchen.de
Bild: © sarah5 by fotolia.de

⑦ **Zahlenpyramiden**
Kannst du dem Mathemonsterchen helfen? 2 Zahlen bleiben übrig.

27

78

www.mathemonsterchen.de
Bild: © sarah5 by fotolia.de

④ **Zahlenpyramiden**
Kannst du dem Mathemonsterchen helfen? 2 Zahlen bleiben übrig.

91

17

www.mathemonsterchen.de
Bild: © sarah5 by fotolia.de

⑧ **Zahlenpyramiden**
Kannst du dem Mathemonsterchen helfen? 2 Zahlen bleiben übrig.

23

35

www.mathemonsterchen.de
Bild: © sarah5 by fotolia.de

⑨ **Zahlenpyramiden**
Kannst du dem Mathemonsterchen helfen? 2 Zahlen bleiben übrig.

24

9

www.mathemonsterchen.de
Bild: © sarah5 by fotolia.de

⑬ **Zahlenpyramiden**
Kannst du dem Mathemonsterchen helfen? 2 Zahlen bleiben übrig.

56

43

www.mathemonsterchen.de
Bild: © sarah5 by fotolia.de

⑩ **Zahlenpyramiden**
Kannst du dem Mathemonsterchen helfen? 2 Zahlen bleiben übrig.

33

36

www.mathemonsterchen.de
Bild: © sarah5 by fotolia.de

⑭ **Zahlenpyramiden**
Kannst du dem Mathemonsterchen helfen? 2 Zahlen bleiben übrig.

21

16

www.mathemonsterchen.de
Bild: © sarah5 by fotolia.de

⑪ **Zahlenpyramiden**
Kannst du dem Mathemonsterchen helfen? 2 Zahlen bleiben übrig.

8

17

www.mathemonsterchen.de
Bild: © sarah5 by fotolia.de

⑮ **Zahlenpyramiden**
Kannst du dem Mathemonsterchen helfen? 2 Zahlen bleiben übrig.

14

18

www.mathemonsterchen.de
Bild: © sarah5 by fotolia.de

⑫ **Zahlenpyramiden**
Kannst du dem Mathemonsterchen helfen? 2 Zahlen bleiben übrig.

16

15

www.mathemonsterchen.de
Bild: © sarah5 by fotolia.de

⑯ **Zahlenpyramiden**
Kannst du dem Mathemonsterchen helfen? 2 Zahlen bleiben übrig.

17

15

www.mathemonsterchen.de
Bild: © sarah5 by fotolia.de