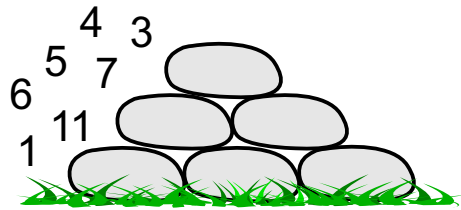



①

Zahlenpyramiden

Kannst du dem Mathemonsterchen helfen? 2 Zahlen bleiben übrig.


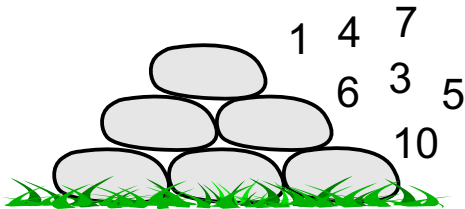


www.mathemonsterchen.de
Bild: © sarah5 by fotolia.de

②

Zahlenpyramiden

Kannst du dem Mathemonsterchen helfen? 2 Zahlen bleiben übrig.

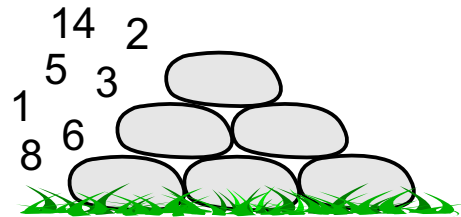
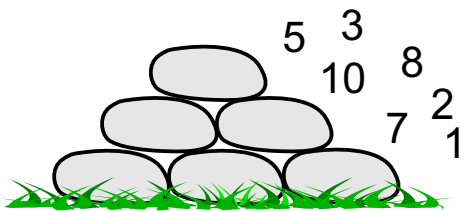


www.mathemonsterchen.de
Bild: © sarah5 by fotolia.de

③

Zahlenpyramiden

Kannst du dem Mathemonsterchen helfen? 2 Zahlen bleiben übrig.


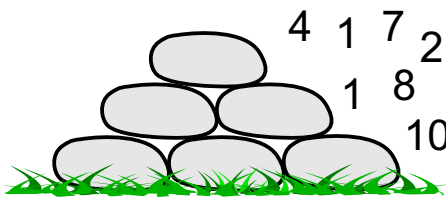


www.mathemonsterchen.de
Bild: © sarah5 by fotolia.de

④

Zahlenpyramiden

Kannst du dem Mathemonsterchen helfen? 2 Zahlen bleiben übrig.


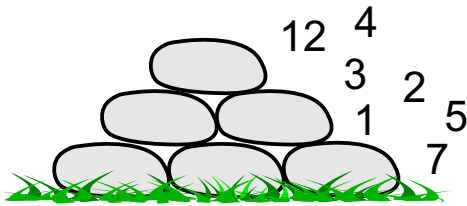


www.mathemonsterchen.de
Bild: © sarah5 by fotolia.de

5

Zahlenpyramiden

Kannst du dem Mathemonsterchen helfen? 2 Zahlen bleiben übrig.





www.mathemonsterchen.de
Bild: © sarah5 by fotolia.de

6

Zahlenpyramiden

Kannst du dem Mathemonsterchen helfen? 2 Zahlen bleiben übrig.





www.mathemonsterchen.de
Bild: © sarah5 by fotolia.de

7

Zahlenpyramiden

Kannst du dem Mathemonsterchen helfen? 2 Zahlen bleiben übrig.





www.mathemonsterchen.de
Bild: © sarah5 by fotolia.de

8

Zahlenpyramiden

Kannst du dem Mathemonsterchen helfen? 2 Zahlen bleiben übrig.


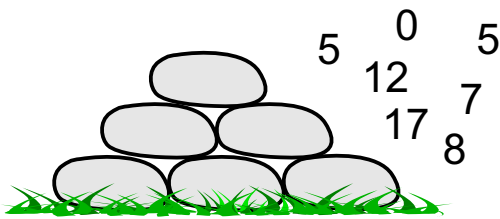


www.mathemonsterchen.de
Bild: © sarah5 by fotolia.de

9

Zahlenpyramiden

Kannst du dem Mathemonsterchen helfen? 2 Zahlen bleiben übrig.





www.mathemonsterchen.de
Bild: © sarah5 by fotolia.de

10

Zahlenpyramiden

Kannst du dem Mathemonsterchen helfen? 2 Zahlen bleiben übrig.





www.mathemonsterchen.de
Bild: © sarah5 by fotolia.de

11

Zahlenpyramiden

Kannst du dem Mathemonsterchen helfen? 2 Zahlen bleiben übrig.





www.mathemonsterchen.de
Bild: © sarah5 by fotolia.de

12

Zahlenpyramiden

Kannst du dem Mathemonsterchen helfen? 2 Zahlen bleiben übrig.





www.mathemonsterchen.de
Bild: © sarah5 by fotolia.de

13

Zahlenpyramiden

Kannst du dem Mathemonsterchen helfen? 2 Zahlen bleiben übrig.





www.mathemonsterchen.de
Bild: © sarah5 by fotolia.de

14

Zahlenpyramiden

Kannst du dem Mathemonsterchen helfen? 2 Zahlen bleiben übrig.


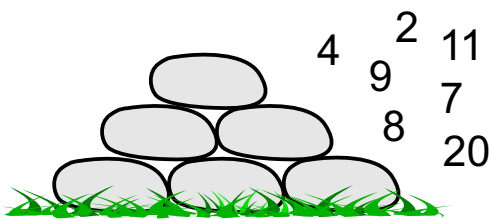


www.mathemonsterchen.de
Bild: © sarah5 by fotolia.de

15

Zahlenpyramiden

Kannst du dem Mathemonsterchen helfen? 2 Zahlen bleiben übrig.





www.mathemonsterchen.de
Bild: © sarah5 by fotolia.de

16

Zahlenpyramiden

Kannst du dem Mathemonsterchen helfen? 2 Zahlen bleiben übrig.



www.mathemonsterchen.de
Bild: © sarah5 by fotolia.de

Lösungen:

① Zahlenpyramiden
Kannst du dem Mathemonsterchen helfen? 2 Zahlen bleiben übrig.

www.mathemonsterchen.de
Bild: © sarah5 by fotolia.de

② Zahlenpyramiden
Kannst du dem Mathemonsterchen helfen? 2 Zahlen bleiben übrig.

www.mathemonsterchen.de
Bild: © sarah5 by fotolia.de

③ Zahlenpyramiden
Kannst du dem Mathemonsterchen helfen? 2 Zahlen bleiben übrig.

www.mathemonsterchen.de
Bild: © sarah5 by fotolia.de

④ Zahlenpyramiden
Kannst du dem Mathemonsterchen helfen? 2 Zahlen bleiben übrig.

www.mathemonsterchen.de
Bild: © sarah5 by fotolia.de

⑨ Zahlenpyramiden
Kannst du dem Mathemonsterchen helfen? 2 Zahlen bleiben übrig.

www.mathemonsterchen.de
Bild: © sarah5 by fotolia.de

⑩ Zahlenpyramiden
Kannst du dem Mathemonsterchen helfen? 2 Zahlen bleiben übrig.

www.mathemonsterchen.de
Bild: © sarah5 by fotolia.de

⑪ Zahlenpyramiden
Kannst du dem Mathemonsterchen helfen? 2 Zahlen bleiben übrig.

www.mathemonsterchen.de
Bild: © sarah5 by fotolia.de

⑫ Zahlenpyramiden
Kannst du dem Mathemonsterchen helfen? 2 Zahlen bleiben übrig.

www.mathemonsterchen.de
Bild: © sarah5 by fotolia.de

⑤ Zahlenpyramiden
Kannst du dem Mathemonsterchen helfen? 2 Zahlen bleiben übrig.

www.mathemonsterchen.de
Bild: © sarah5 by fotolia.de

⑥ Zahlenpyramiden
Kannst du dem Mathemonsterchen helfen? 2 Zahlen bleiben übrig.

www.mathemonsterchen.de
Bild: © sarah5 by fotolia.de

⑦ Zahlenpyramiden
Kannst du dem Mathemonsterchen helfen? 2 Zahlen bleiben übrig.

www.mathemonsterchen.de
Bild: © sarah5 by fotolia.de

⑧ Zahlenpyramiden
Kannst du dem Mathemonsterchen helfen? 2 Zahlen bleiben übrig.

www.mathemonsterchen.de
Bild: © sarah5 by fotolia.de

⑬ Zahlenpyramiden
Kannst du dem Mathemonsterchen helfen? 2 Zahlen bleiben übrig.

www.mathemonsterchen.de
Bild: © sarah5 by fotolia.de

⑭ Zahlenpyramiden
Kannst du dem Mathemonsterchen helfen? 2 Zahlen bleiben übrig.

www.mathemonsterchen.de
Bild: © sarah5 by fotolia.de

⑮ Zahlenpyramiden
Kannst du dem Mathemonsterchen helfen? 2 Zahlen bleiben übrig.

www.mathemonsterchen.de
Bild: © sarah5 by fotolia.de

⑯ Zahlenpyramiden
Kannst du dem Mathemonsterchen helfen? 2 Zahlen bleiben übrig.

www.mathemonsterchen.de
Bild: © sarah5 by fotolia.de